



Petit défi math : pour le réaliser il vous faut 4 cubes de chaque couleur.

Sacha joue avec des cubes de trois couleurs différentes : bleu, rouge et jaune



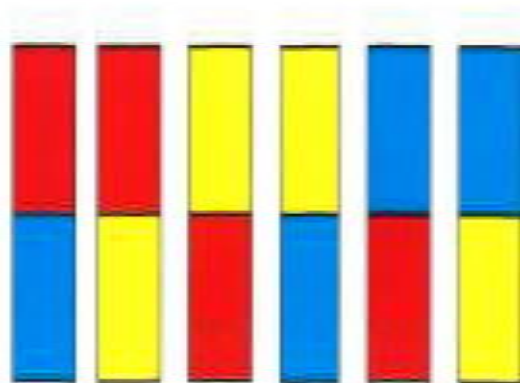
Il veut construire le plus de tours de deux cubes et de deux couleurs différentes possibles.

Il a déjà construit une tour :



Cherche toutes les tours différentes qu'il peut construire.


Aide de la maitresse pour les parents, il y a 6 solutions.



Moyenne section

Petit défi math : pour le réaliser il vous faut 6 cubes de chaque couleur.

Sacha joue avec des cubes de quatre couleurs différentes : bleu, rouge, jaune et vert



Il veut construire le plus de tours de deux cubes et de deux couleurs différentes possibles.
Il a déjà construit une tour :



Cherche toutes les tours différentes qu'il peut construire.

Aide de la maitresse pour les parents, il y a 12 solutions.

